



Квадратний, практичний, хороший

На малюнку праворуч можна побачити два однакових за розміром квадрата, які мають рівно чотири спільні точки.


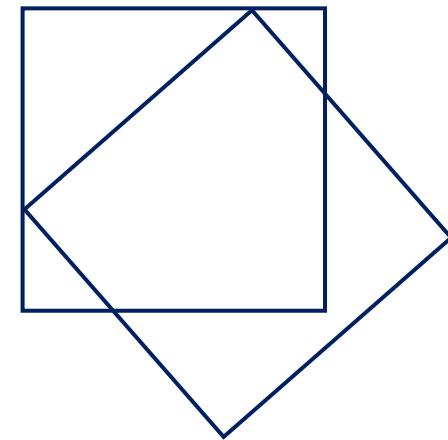
однак ці квадрати також можна намалювати таким чином, що вони...

- рівно дві загальні точки
- рівно п'ять загальних точок
- рівно вісім загальних точок

... хабен.

Складіть можливий малюнок для кожного числа спільних точок.


Для кожної правильно вирішеної підзадачі є один момент.



Запишіть своє рішення на звороті.

Ви можете знайти правильне рішення на домашній сторінці школи після кінцевого терміну.





Delfin der Woche

Ім'я: _____

Клас: _____

